

IL MECCANICO

Per riparare i freni della sua auto, il papà di Martina ha speso € 350.
Quanti soldi è costata ogni ora di manodopera se la fattura rilasciata dal meccanico Guido Vitarelli è quella riportata qui sotto?

• Pezzi di ricambio:	€ 80
• 6 ore di manodopera:	€
<hr/>	
TOTALE	€ 350



Cerca la definizione giusta.

Fattura:




- Spiegazione di cosa è stato fatto.
- Spiegazione dei lavori eseguiti con relativi prezzi.
- Spiegazione di cosa resta ancora da fare.

Manodopera:

- Il prezzo dei ricambi.
- Il lavoro fatto dal meccanico con le sue mani.

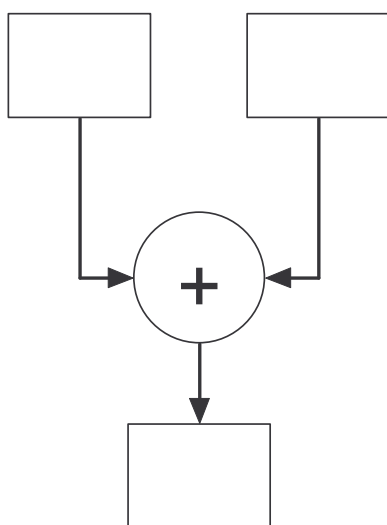
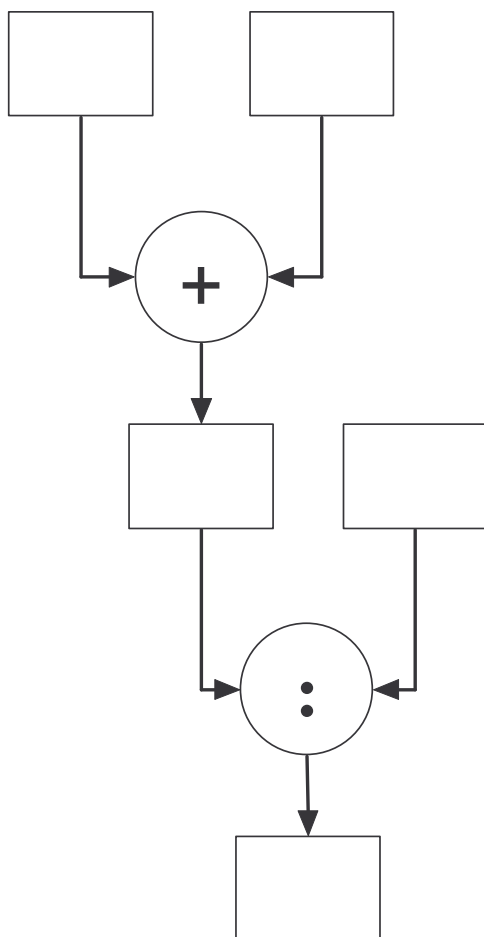


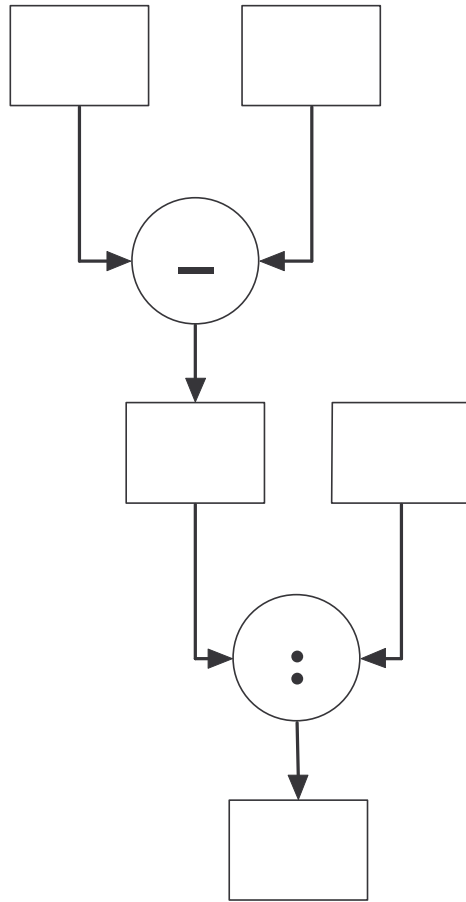
Scegli la rappresentazione esatta.





Scegli il diagramma giusto e completalo.





Pensi di aver svolto bene il compito?
Segna con una crocetta la risposta.



Sì



No