

ALUNNO/A \_\_\_\_\_

VERIFICA DEL \_\_\_\_\_

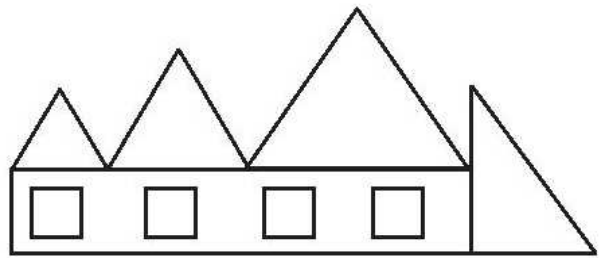
## VERIFICA DI GEOMETRIA

1. Nella figura seguente quanti e quali poligoni ci sono?

4 triangoli, 4 quadrati, 1 rettangolo.

4 rettangoli, 4 quadrati, 1 triangolo.

4 triangoli, 4 quadrati.



2. Qual è il poligono che ha tre lati e tre angoli?

esagono

quadrato

triangolo

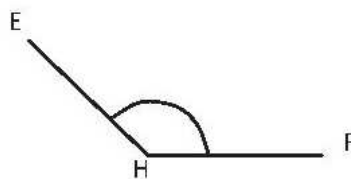
3. Qual è la misura dell'angolo retto?

$90^\circ$

$180^\circ$

$360^\circ$

4. Che tipo di angolo è qui raffigurato?



retto

acuto

ottuso

5. Il punto H é

il vertice

il lato

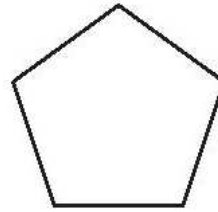
l'altezza

6. Quanti lati e quanti angoli ha il poligono qui raffigurato?

5 lati e 4 angoli

5 lati e 5 angoli

4 lati e 5 angoli

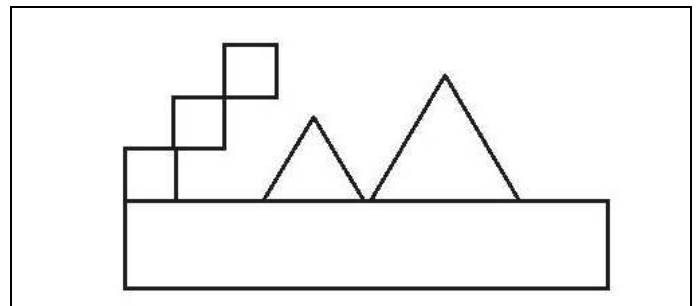


7. Nella figura seguente quanti e quali poligoni ci sono?

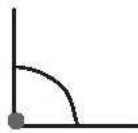
3 triangoli, 2 quadrati, 1 rettangolo.

3 rettangoli, 2 quadrati, 1 triangolo.

3 quadrati, 2 triangoli, 1 rettangolo.



8. Che tipo di angolo è qui raffigurato?



retto

acuto

ottuso

9. Qual è la misura di un angolo piatto?

$90^\circ$

$180^\circ$

$360^\circ$