


## L'ACQUARIO DI NICOLA.



NELL'ACQUARIO NUOTANO 5 PESCI ROSSI E 2 PESCI A MACCHIE.

---

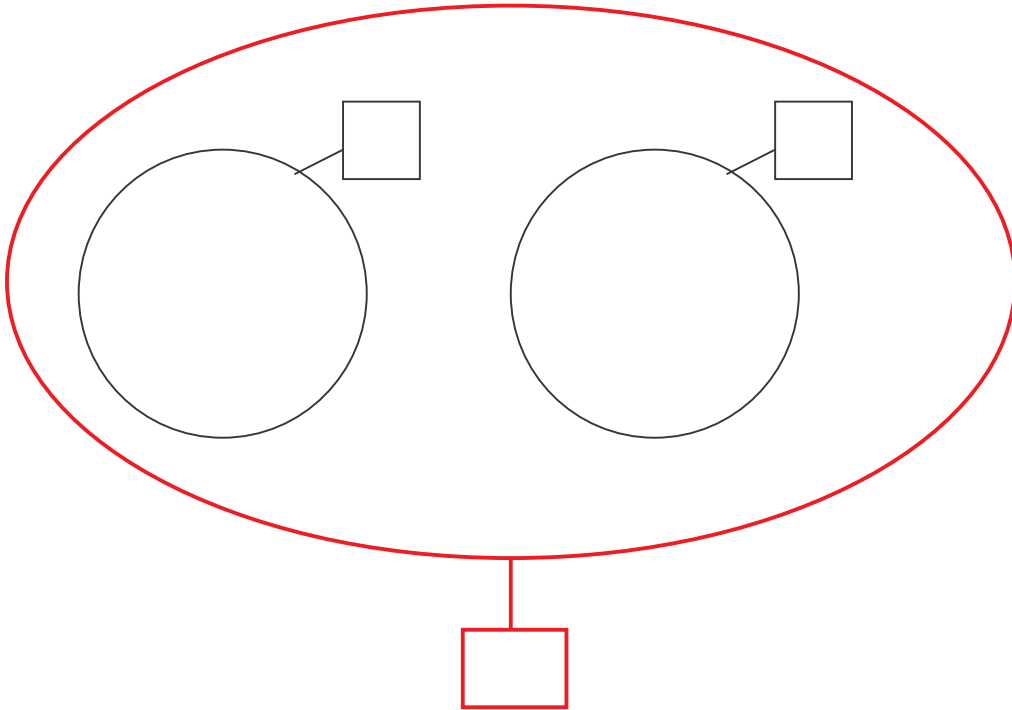


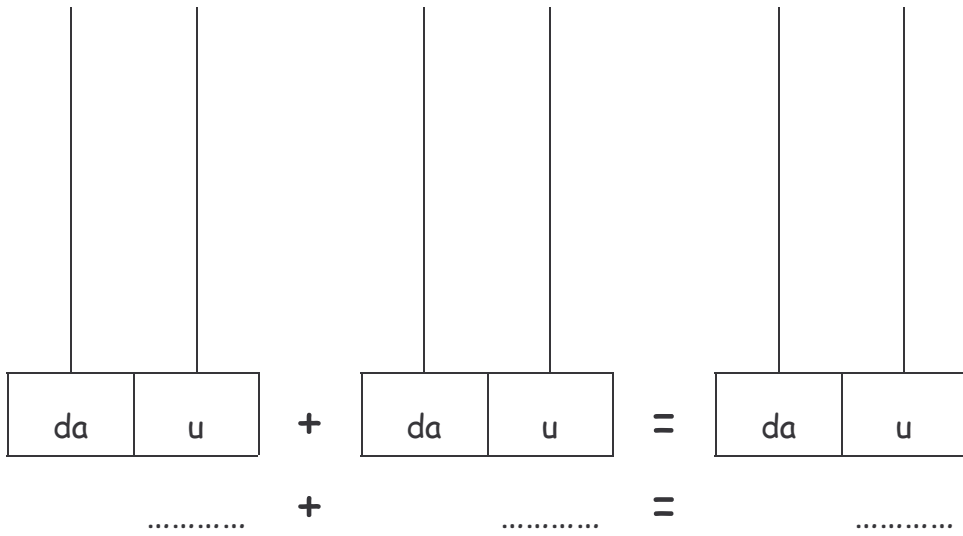
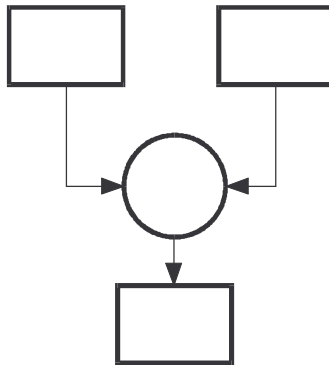
Si chiederà agli alunni di osservare il disegno, di completare il TESTO con la DOMANDA e di risolvere il problema:

- con gli INSIEMI,
- con i REGOLI,
- sulla LINEA DEI NUMERI,
- con il DIAGRAMMA A BLOCCHI,
- con l'utilizzo dell'ABACO.



ADESSO LAVORA TU





HO LAVORATO:

- CON QUALCHE INCERTEZZA.
- ABBASTANZA BENE.
- MOLTO BENE.

## ARIA DI PRIMAVERA.



LEGGI IL TESTO, DISEGNA CIÒ CHE VEDI INDICATO E RISPONDI.

IL SOLE ILLUMINA IL CIELO AZZURRO, MA TRE NUVOLETTE  
GIOCANO A RINCORRERSI.  
SONO SBOCCIAE QUA E LÀ 5 MARGHERITE BIANCHE.

✧ QUANTE NUVOLETTE SI RINCORRONO NEL CIELO?

✧ QUANTE MARGHERITE SONO SBOCCIAE?

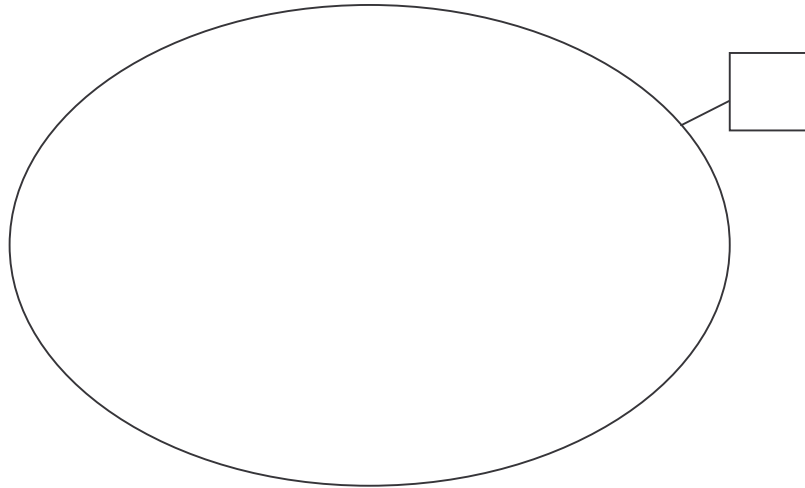
✧ SONO DI PIÙ LE NUVOLETTE O LE MARGHERITE?

.....

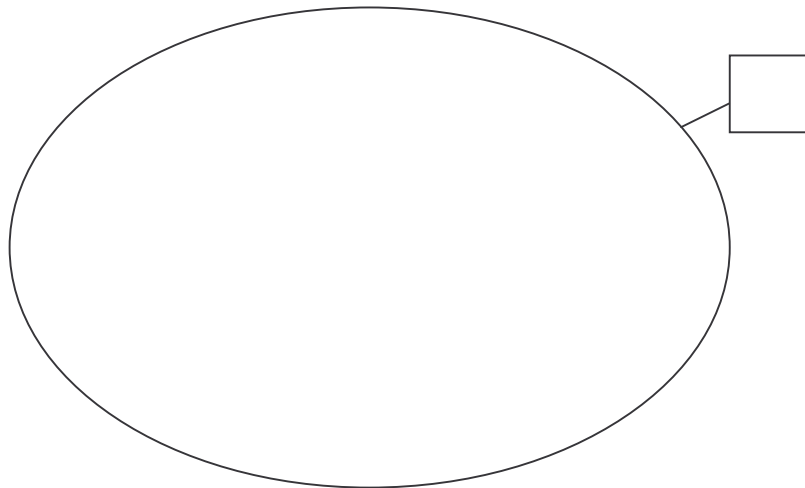
.....



DISEGNA L'INSIEME DELLE NUVOLETTE



DISEGNA L'INSIEME DELLE MARGHERITE



PENSI DI AVER SVOLTO BENE IL COMPITO?  
SEGNA CON UNA CROCETTA LA RISPOSTA.



SÌ

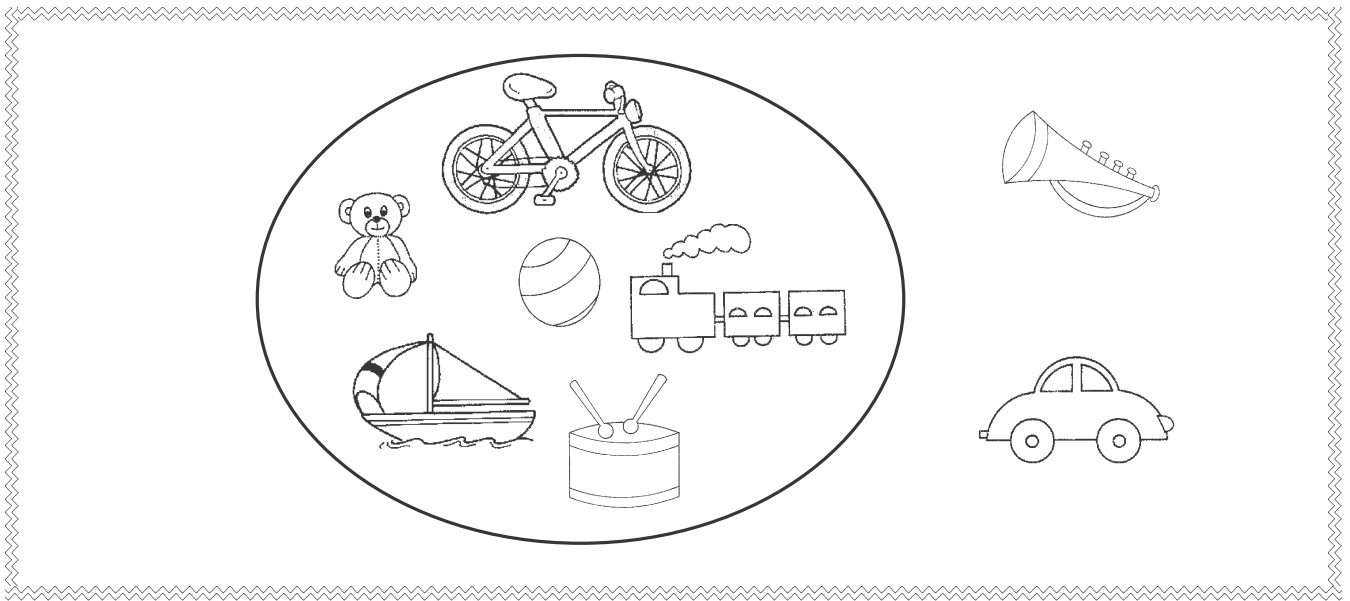


NO

# I GIOCATTOLI DI FRANCESCO.

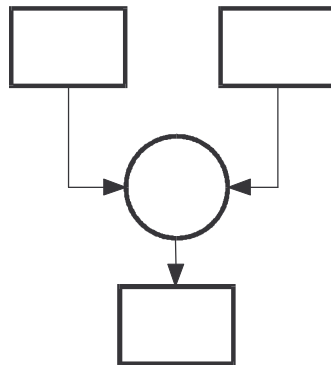


OSSERVA IL DISEGNO E RISPONDI ALLE DOMANDE.




SCRIVI I NUMERI NEL DIAGRAMMA E AL POSTO DEI PUNTINI.

QUANTI GIOCATTOLI NEL DIAGRAMMA?      QUANTI GIOCATTOLI FUORI DAL DIAGRAMMA?



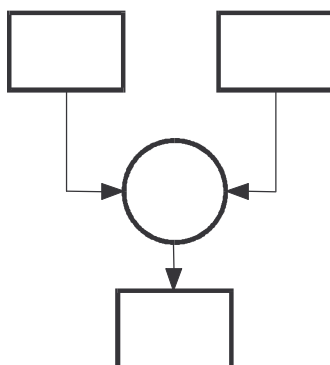
QUANTI GIOCATTOLI?

..... + ..... = .....



QUANTI  
GIOCATTOLI  
SENZA RUOTE?

QUANTI  
GIOCATTOLI  
CON LE RUOTE?



QUANTI GIOCATTOLI?

..... + ..... = .....



CONTROLLA SE I TUOI COMPAGNI HANNO LAVORATO  
COME TE.  
AVEVI INDOVINATO?



SÌ



NO

## SONO ARRIVATI GLI UCCELLINI.

SULL'ALBERO CI SONO


.....

UCCELLINI NERI E

.....

UCCELLINI NON NERI.

QUANTI UCCELLINI CI SONO IN TUTTO?



COMPLETA:

DATI:

.....

UCCELLINI NERI

.....

UCCELLINI NON NERI



OPERAZIONE:

..... + ..... = .....

RISPOSTA:

SULL'ALBERO CI SONO  UCCELLINI.



PENSI DI AVER SVOLTO BENE IL COMPITO?  
SEGNA CON UNA CROCETTA LA RISPOSTA.



SÌ



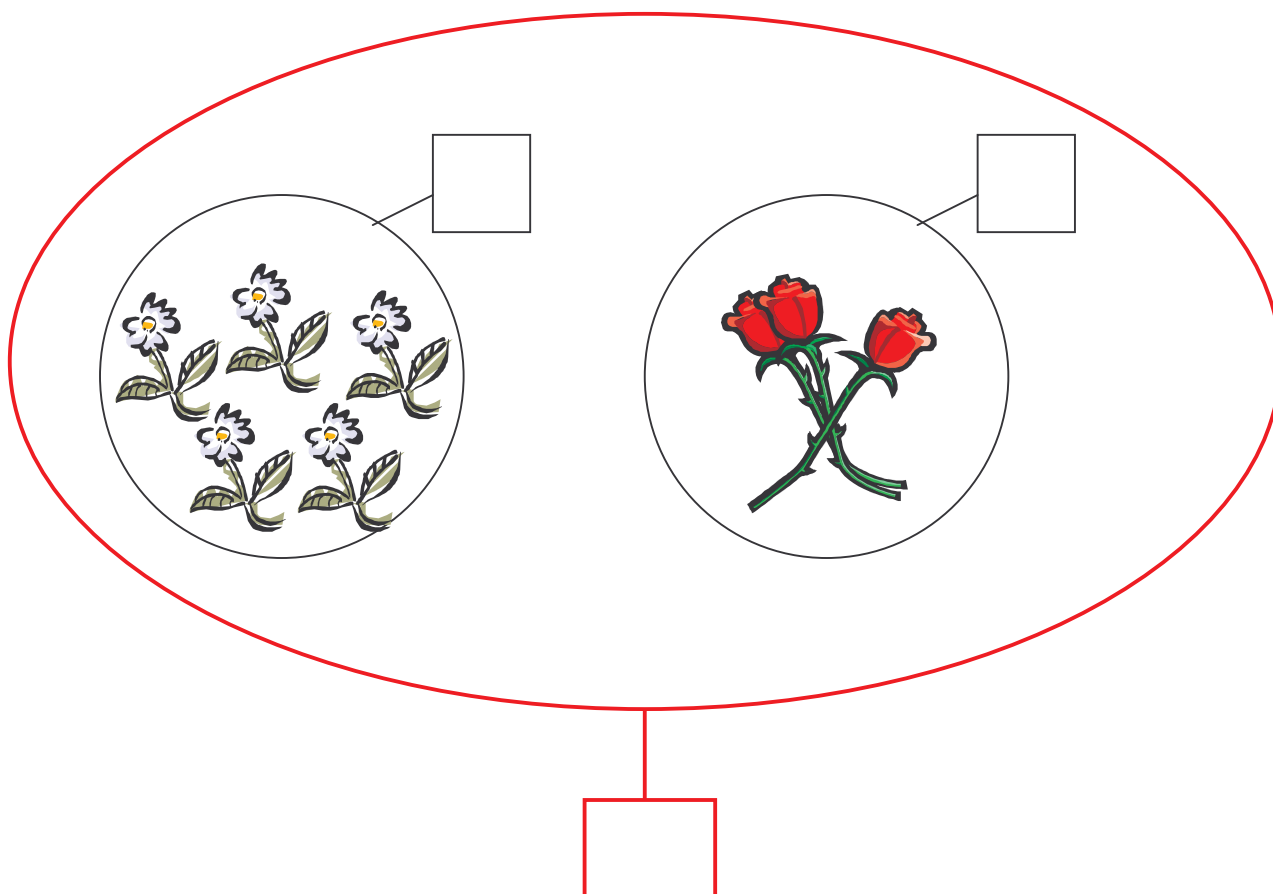
NON SO



NO

## I FIORELLINI.

MARTA HA COLTO 5 MARGHERITE E 3 PRIMULE.  
QUANTI FIORI IN TUTTO?

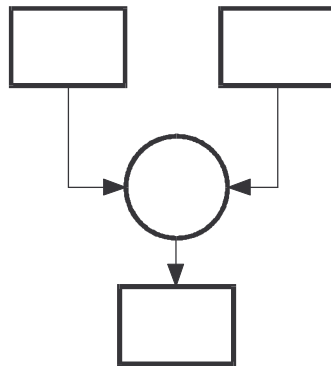


COMPLETA PRIMA SCRIVENDO IL NUMERO NEI  
CARTELLINI E POI SULLA LINEA DEI NUMERI.





ORA COMPLETA IL DIAGRAMMA:



RISOLVI IL PROBLEMA UTILIZZANDO L'ABACO:

da	u	+	da	u	=	da	u
.....		+	.....		=	.....	



SCRIVI LA RISPOSTA.

---

---

COME TI È SEMBRATO QUESTO PROBLEMA?



- È STATO SEMPLICE.
- HO AVUTO UN PO' DI DIFFICOLTÀ.
- HO DOVUTO PENSARCI MOLTO.

## LA COLLANA DI SARA.

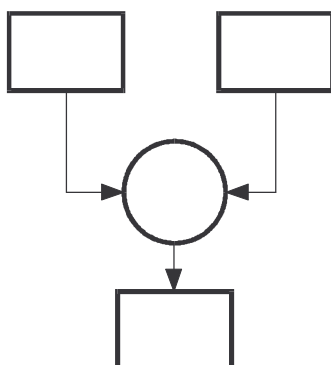
SARA HA INFILATO NEL FILO DI NAYLON 6 PERLE BIANCHE E 3 AZZURRE.  
QUANTE PERLE HA SARA NELLA SUA COLLANA?



DISEGNA LE PERLE NEL FILO.



RISOLVI IL PROBLEMA COMPLETANDO IL DIAGRAMMA.





COMPLETA:

OPERAZIONE:

..... + ..... = .....

RISPOSTA:

SARA NELLA SUA COLLANA HA  PERLE.



INDICA CON UNA CROCETTA COSA PENSI DEL TUO LAVORO.


- SONO SICURO DI AVER FATTO TUTTO GIUSTO.
- FORSE HO FATTO GIUSTO.
- FORSE HO SBAGLIATO.
- SONO SICURO DI AVER SBAGLIATO.

## LE FIGURINE.

SIMONE HA 2 FIGURINE.  
QUIRINO NE HA 4 IN PIÙ DI SIMONE.  
QUANTE FIGURINE HA QUIRINO?  
QUANTE FIGURINE HANNO INSIEME I DUE BAMBINI?



COLORA LE FIGURINE DI QUIRINO DI ROSSO E QUELLE  
DI SIMONE DI GIALLO:



ESEGUI L'OPERAZIONE:

$$\dots\dots\dots + \dots\dots\dots = \dots\dots\dots$$



ORA COLORA I REGOLI IN MODO ESATTO:




COMPLETA LE RISPOSTE:

QUIRINO HA  FIGURINE.

INSIEME I DUE BAMBINI HANNO  FIGURINE.



PENSI DI AVER SVOLTO BENE IL COMPITO?  
SEGNA CON UNA CROCETTA LA RISPOSTA.



SÌ



NO

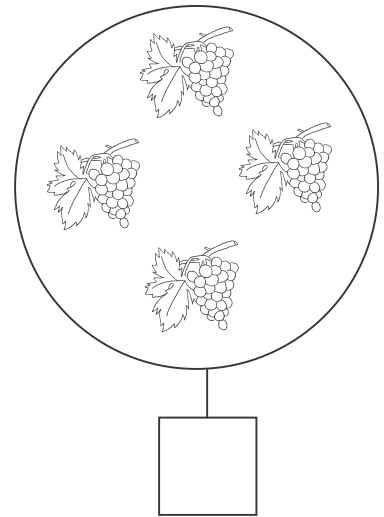
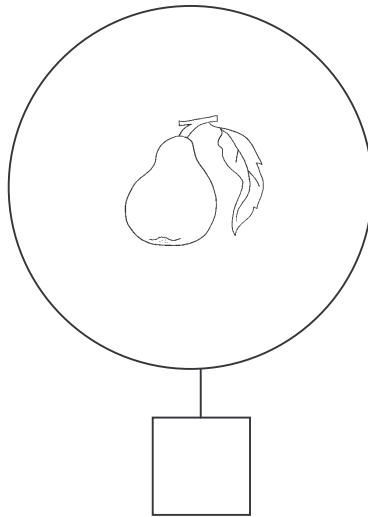
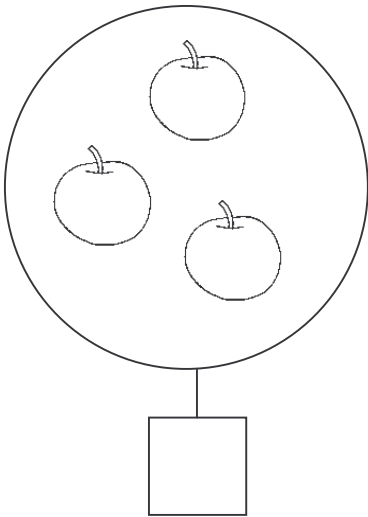


# LA FRUTTA.

QUANTI FRUTTI IN TUTTO?



COMPLETA I CARTELLINI GUARDANDO LE FIGURE:



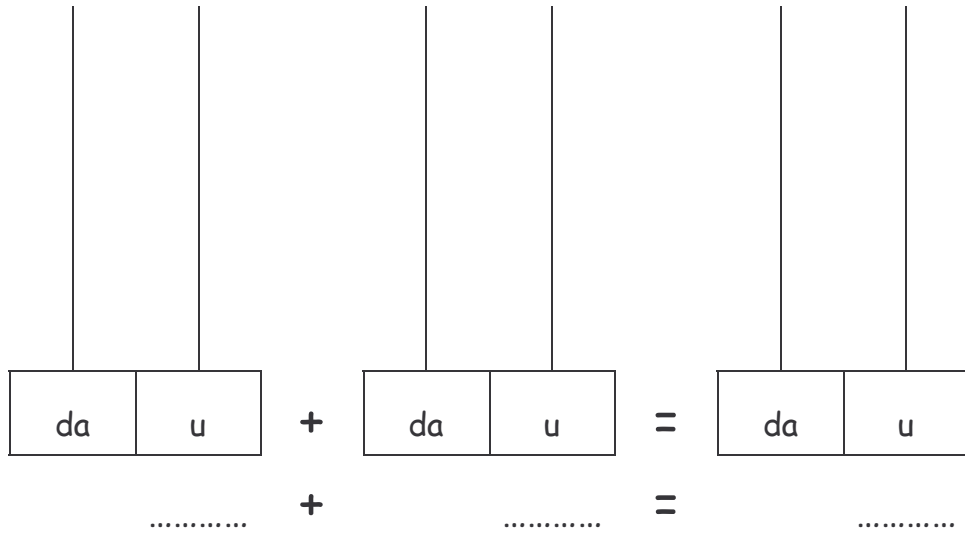
ORA ESEGUI L'OPERAZIONE:

OPERAZIONE:

$$\dots\dots\dots + \dots\dots\dots = \dots\dots\dots$$



RISOLVI IL PROBLEMA UTILIZZANDO L'ABACO:



SCRIVI LA RISPOSTA.

.....

.....



CONTROLLA SE I TUOI COMPAGNI HANNO LAVORATO  
COME TE.  
AVEVI INDOVINATO?



SÌ



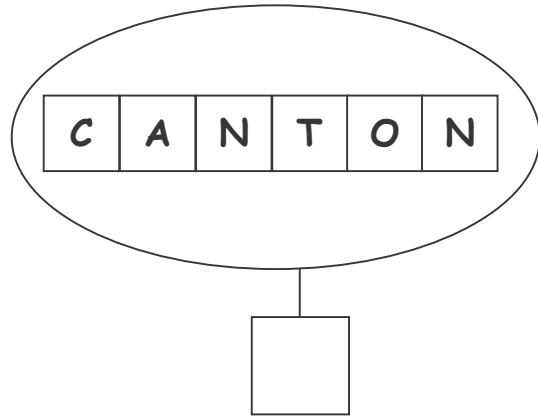
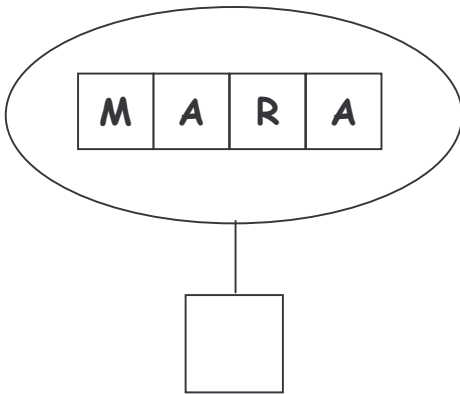
NO

## LE LETTERE.

MARA CANTON HA CONTATO TUTTE LE LETTERE CHE  
COMPONGONO IL SUO NOME ED IL SUO COGNOME.  
QUANTE LETTERE SONO IN TUTTO?



COMPLETA I CARTELLINI GUARDANDO LE FIGURE:



ESEGUI ORA L'OPERAZIONE:

..... + ..... = .....



PENSI DI AVER SVOLTO BENE IL COMPITO?  
SEGNA CON UNA CROCETTA LA RISPOSTA.



SÌ



NON SO




NO

## IL TRENINO.

ALBERTO HA UN TRENINO CON UNA LOCOMOTIVA E 5 CARROZZE.  
ETTORE HA UN TRENINO CON UNA LOCOMOTIVA E QUATTRO  
CARROZZE. DECIDONO DI FARE UN LUNGO TRENO METTENDO  
INSIEME TUTTE LE CARROZZE.  
QUANTE CARROZZE HA QUESTO TRENO?



DISEGNA IL TRENO OTTENUTO E CONTA LE CARROZZE:



SCRIVI LA RISPOSTA:

IL TRENO HA  CARROZZE.



PENSI DI AVER SVOLTO BENE IL COMPITO?  
SEGNA CON UNA CROCETTA LA RISPOSTA.



SÌ



NO