

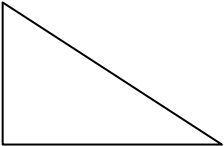


ALUNNO/A CLASSE \_\_\_\_\_

VERIFICA DEL \_\_\_\_\_

### VERIFICA SU PERIMETRO E AREA DEI POLIGONI

- Calcola il perimetro e l'area dei seguenti poligoni.



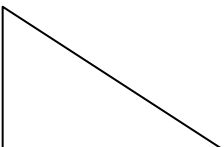
Poligono	Misure dei lati	Calcolo perimetro	Calcolo Area
	$\ell = 7,5 \text{ cm}$		
	$b = 6,5 \text{ cm}$ $h = 4,5 \text{ cm}$		
	$\ell = 6,2 \text{ cm}$ $b = 4,8 \text{ cm}$ $h = 3,5 \text{ cm}$		

ALUNNO/A CLASSE \_\_\_\_\_

VERIFICA DEL \_\_\_\_\_

### VERIFICA SU PERIMETRO E AREA DEI POLIGONI

- Calcola il perimetro e l'area dei seguenti poligoni.

Poligono	Misure dei lati	Calcolo perimetro	Calcolo Area
	$\ell = 7,5 \text{ cm}$		
	$b = 6,5 \text{ cm}$ $h = 4,5 \text{ cm}$		
	$\ell = 6,2 \text{ cm}$ $b = 4,8 \text{ cm}$ $h = 3,5 \text{ cm}$		