

I CD DI CARLA.

CARLA HA 12 CD PER IL COMPUTER.
LA MAMMA GLIENE REGALA ANCORA 5.
QUANTI CD HA ORA CARLA?



COMPLETA:

DATI:

..... CD CHE CARLA GIÀ POSSIEDE

..... CD REGALATI A CARLA DALLA MAMMA

OPERAZIONE:

..... + =

RISPOSTA:

CARLA ORA HA CD.



QUALI DI QUESTI PROBLEMI RISOLVERESTI CON LA
STESSA OPERAZIONE?
COLORA LA CASELLA ESATTA.

- FABIO HA 12 FIGURINE E NE REGALA 5 A LUCA. QUANTE FIGURINE HA ORA FABIO?

- FABIO HA 12 FIGURINE E NE VINCE ANCORA 5 GIOCANDO CON LUCA. QUANTE FIGURINE HA ORA FABIO?



HO LAVORATO:

- CON QUALCHE INCERTEZZA.

- ABBASTANZA BENE.

- MOLTO BENE.

INVITI.

LUCA DEVE STAMPARE AL COMPUTER DEI BIGLIETTINI DI INVITO PER LA FESTA DEL SUO COMPLEANNO CHE È IL 15 MARZO. PRIMA NE STAMPA 8, POI ALTRI 9. QUANTI INVITI HA STAMPATO COMPLESSIVAMENTE?



SCEGLI LE INFORMAZIONI PER RISOLVERE IL PROBLEMA, COLORANDO SOLO LE CASELLE ESATTE.

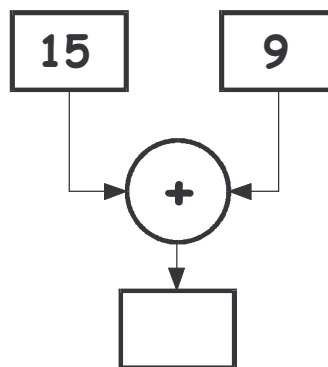
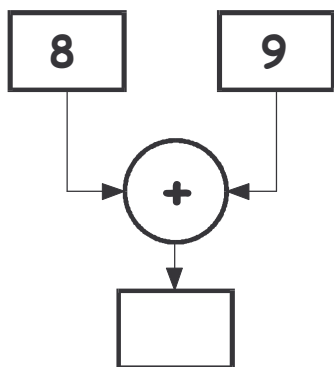
8 BIGLIETTINI STAMPATI LA PRIMA VOLTA.

15 GIORNO DEL COMPLEANNO DI LUCA.

9 BIGLIETTINI STAMPATI LA SECONDA VOLTA.



SCEGLI IL DIAGRAMMA GIUSTO E COMPLETALO.





PENSI DI AVER SVOLTO BENE IL COMPITO?
SEGNA CON UNA CROCETTA LA RISPOSTA.



SÌ



NO

IL LIBRO DI CLAUDIA.

CLAUDIA STA LEGGENDO LA FAVOLA DI CENERENTOLA.
IERI HA LETTO 11 PAGINE E OGGI NE HA LETTE 7.
QUANTE PAGINE HA LETTO FINORA?



SPIEGA CHE COSA INDICANO QUESTI NUMERI:

11

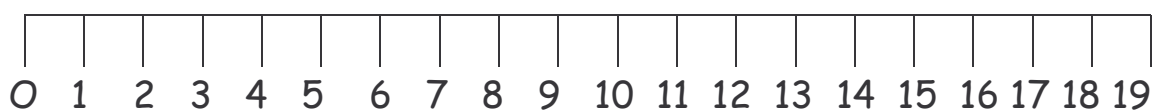
.....

7

.....



RISOLVI SULLA LINEA DEI NUMERI:



SCRIVI L'OPERAZIONE:

..... =



SCRIVI LA RISPOSTA.



INDICA CON UNA CROCETTA COSA PENSI DEL TUO LAVORO.

- SONO SICURO DI AVER FATTO TUTTO GIUSTO.
- FORSE HO FATTO GIUSTO.
- FORSE HO SBAGLIATO.
- SONO SICURO DI AVER SBAGLIATO.

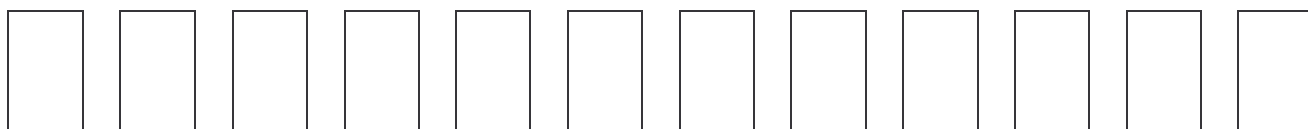
LE FOTO DEL PAPÀ DI ENZO.

DURANTE LA GITA IN MONTAGNA IL PAPÀ DI ENZO HA STAMPATO 12 FOTO, MA 4 FOTO NON SONO VENUTE BENE.

QUANTE FOTO PUÒ METTERE ENZO NEL SUO ALBUM?



ECCO LE FOTO SCATTATE DAL PAPÀ DI ENZO:



✦ COLORA LE FOTO VENUTE BENE DI ROSSO.

✦ COLORA LE ALTRE DI NERO.



ESEGUI L'OPERAZIONE:

$$\dots\dots\dots \square \dots\dots\dots = \dots\dots\dots$$



COLORA IL QUADRATINO DEL PROBLEMA CHE RISOLVERESTI ALLO STESSO MODO:

- AL SUPERMERCATO CI SONO 12 UOVA DI CIOCCOLATO AL LATTE E 4 DI CIOCCOLATO FONDENTE.
QUANTE UOVA SONO SULLO SCAFFALE DEL SUPERMERCATO?

- AL SUPERMERCATO C'ERANO 12 UOVA DI CIOCCOLATO A FORMA DI CONIGLIO, MA 4 SONO STATE VENDUTE.
QUANTE UOVA CI SONO ORA?

- AL SUPERMERCATO C'ERANO 12 UOVA DI CIOCCOLATO IN 4 SCAFFALI.
QUANTE UOVA C'ERANO IN OGNI SCAFFALE?



COME TI È SEMBRATO QUESTO PROBLEMA?

- È STATO SEMPLICE.

- HO AVUTO UN PO' DI DIFFICOLTÀ.


- HO DOVUTO PENSARCI MOLTO.

LE BIGLIE.

ANDREA GIOCA A BIGLIE CON LUIGI.
ANDREA HA 15 BIGLIE E NE PERDE 8.
CON QUANTE BIGLIE PUÒ ANCORA GIOCARE ANDREA?



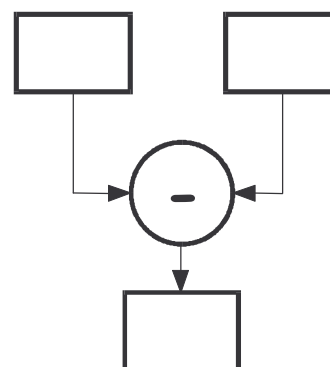
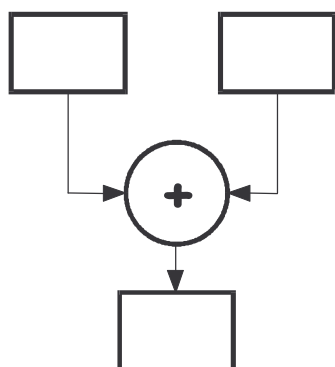
DISEGNA LE BIGLIE DI ANDREA:



ORA COLORA SOLO QUELLE CHE GLI SONO RIMASTE.




SCEGLI IL DIAGRAMMA ESATTO PER RISOLVERE IL PROBLEMA E COMPLETALO:





CROCETTA IL MURETTO GIUSTO:



PENSI DI AVER SVOLTO BENE IL COMPITO?
SEGNA CON UNA CROCETTA LA RISPOSTA.



SÌ




NON SO




NO

I SOLDATINI.

SOLDATINI DI MARCO



SOLDATINI DI MICHELE



MARCO HA 5 SOLDATINI.
MICHELE HA 8 SOLDATINI.
LI METTONO INSIEME PER GIOCARE.
CON QUANTI SOLDATINI POSSONO GIOCARE I DUE BAMBINI?

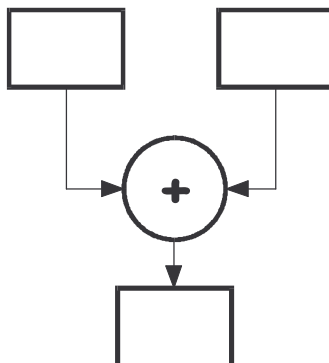


RISOLVI IL PROBLEMA ESEGUENDO L'OPERAZIONE:

..... + =



COMPLETA LO SCHEMA:





ORA SCRIVI LA RISPOSTA.

.....

.....



CONTROLLA SE I TUOI COMPAGNI HANNO LAVORATO
COME TE.
AVEVI INDOVINATO?



SÌ



NO

L'ETÀ.

ROBERTA HA 18 ANNI.

RICCARDO NE HA 13.

QUANTI ANNI DI DIFFERENZA CI SONO TRA I DUE FRATELLI?

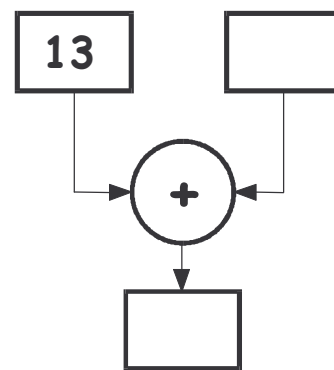
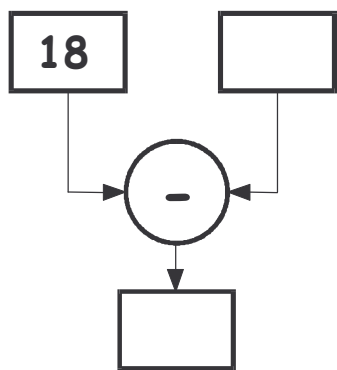


SCEGLI L' INFORMAZIONE UTILE PER RISOLVERE IL PROBLEMA, COLORANDO SOLO LA CASELLA ESATTA.

- RICCARDO HA PIÙ ANNI DI ROBERTA.
- RICCARDO HA MENO ANNI DI ROBERTA.
- RICCARDO HA TANTI ANNI QUANTI ROBERTA.



RISOLVI IL PROBLEMA PRIMA COMPLETANDO IL DIAGRAMMA GIUSTO E POI CON L'OPERAZIONE:



OPERAZIONE:



ORA SCRIVI LA RISPOSTA.

.....

.....



INDICA CON UNA CROCETTA COSA PENSI DEL TUO LAVORO.

- SONO SICURO DI AVER FATTO TUTTO GIUSTO.
- FORSE HO FATTO GIUSTO.
- FORSE HO SBAGLIATO.
- SONO SICURO DI AVER SBAGLIATO.

LE BAMBOLE.

AURORA COLLEZIONA BAMBOLE E NE HA 17.
LA SUA AMICA GIORGIA NE HA 12.



SCRIVI LA DOMANDA.

.....

.....



DISEGNA LE BAMBOLE.



AURORA

A large rectangular box with a decorative wavy border, intended for drawing dolls.

GIORGIA

A large rectangular box with a decorative wavy border, intended for drawing dolls.



ESEGUI L'OPERAZIONE:



SCRIVI LA RISPOSTA.



COLORA IL QUADRATINO DEL PROBLEMA CHE RISOLVERESTI CON LA STESSA OPERAZIONE:

- UN NEGOZIANTE VENDE 12 BAMBOLE CON I CAPELLI LUNGHI E 17 CON I CAPELLI CORTI.
QUANTE BAMBOLE VENDE IL NEGOZIANTE?

- IN UNA VETRINA SONO ESPOSTE 12 BAMBOLINE BIONDE E 17 BRUNE.
QUAL È LA DIFFERENZA TRA LE BAMBOLE BIONDE E QUELLE BRUNE?



CONTROLLA SE I TUOI COMPAGNI HANNO LAVORATO COME TE.
AVEVI INDOVINATO?



SI



NO

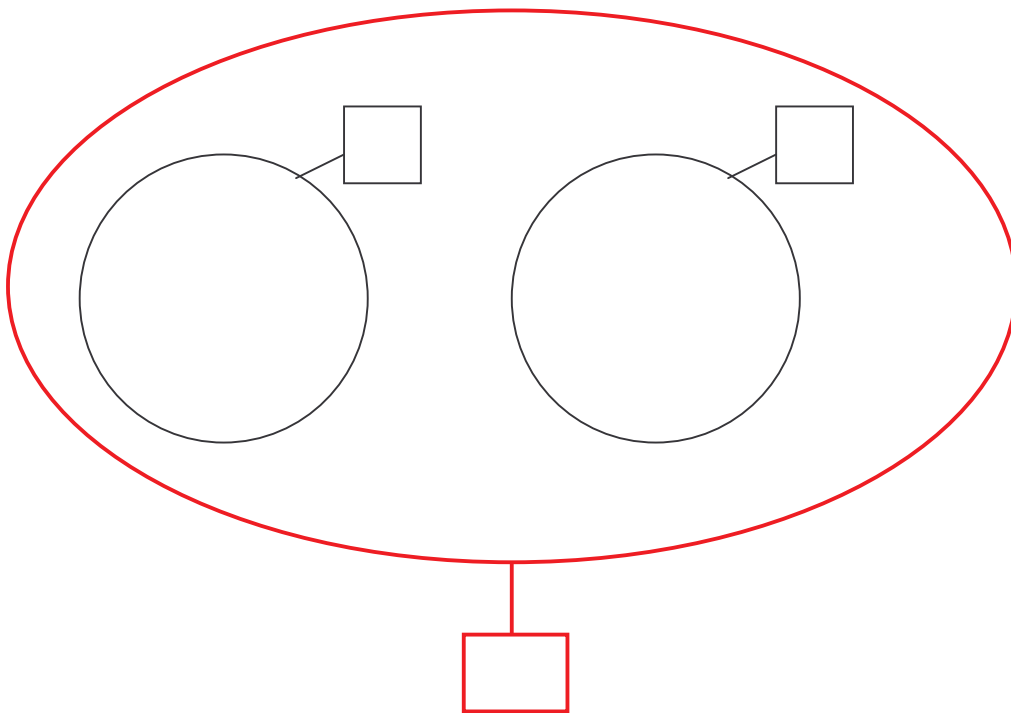
I LAMPIONI.

È QUASI BUIO.

QUANTI LAMPIONI ACCESI CI SONO NELLA VIA IN CUI ABITO SE
CE NE SONO 8 SUL LATO DESTRO E 10 SUL LATO SINISTRO?



RISOLVI IL PROBLEMA PRIMA COMPLETANDO LO
SCHEMA E POI SCRIVENDO L'OPERAZIONE:



OPERAZIONE:

.....



SCEGLI QUALE TRA QUESTI PROBLEMI SI RISOLVE
COME IL PRECEDENTE:

- NELLA VIA IN CUI ABITO CI SONO 10 BAMBINI.
SE 8 SONO MASCHI, QUANTE SONO LE FEMMINE?

- IO ABITO IN UNA GRANDE CITTÀ, CON TANTE STRADE.
QUANTI SARANNO I LAMPIONI?

- NELLA VIA IN CUI ABITO CI SONO 7 CASE GIALLE E 9 CASE
BIANCHE.
QUANTE CASE CI SONO NELLA MIA VIA?



HO LAVORATO:

- CON QUALCHE INCERTEZZA.

- ABBASTANZA BENE.

- MOLTO BENE.

LE CAROTE.

NEL SECCHIO CI SONO 18 CAROTE.
FRECCIA, CAVALLO GOLOSO, NE MANGIA 6.
QUANTE CAROTE RESTANO NEL SECCHIO?

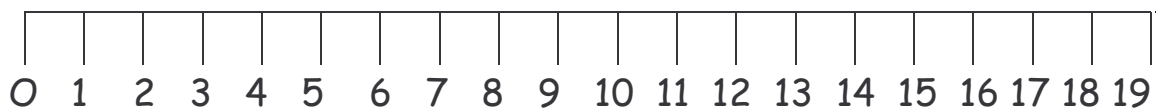


RAPPRESENTA LA SITUAZIONE CON L'ABACO:

da	u	=	da	u
18 - 6		=	

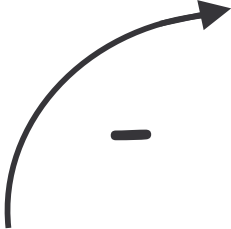


RAPPRESENTA LA SITUAZIONE SULLA LINEA DEI NUMERI:





RAPPRESENTA LA SITUAZIONE CON LA TABELLA A DOPPIA ENTRATA:

 -	6
18	



COME TI È SEMBRATO QUESTO PROBLEMA?

- È STATO SEMPLICE.
- HO AVUTO UN PO' DI DIFFICOLTÀ.
- HO DOVUTO PENSARCI MOLTO.

LE PIZZETTE DI ANNA.

LA SIGNORA ANNA HA PREPARATO 15 PIZZETTE.
SU 7 HA MESSO UN'OLIVA.
QUANTE SONO LE PIZZETTE SENZA OLIVE?



COMPLETA:

✧ DI CHE COSA SI PARLA?

.....

✧ QUANTE SONO LE PIZZETTE PREPARATE?

.....

✧ QUANTE SONO LE OLIVE USATE?

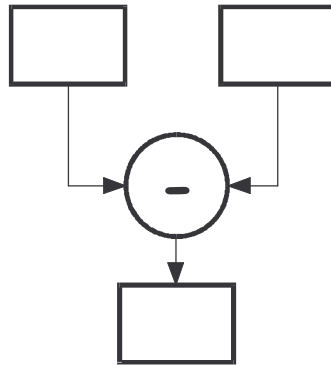
.....

✧ SONO DI PIÙ LE PIZZETTE O LE OLIVE?

.....



RISOLVI IL PROBLEMA PRIMA CON IL DIAGRAMMA E POI CON L'OPERAZIONE:



OPERAZIONE:

$$\dots\dots\dots - \dots\dots\dots = \dots\dots\dots$$



ORA SCRIVI LA RISPOSTA.

.....

.....



PENSI DI AVER SVOLTO BENE IL COMPITO?
SEGNA CON UNA CROCETTA LA RISPOSTA.



SÌ





NO


LE BOLLE DI SAPONE.

LUCIA E DAVIDE SI DIVERTONO CON LE BOLLE DI SAPONE.
LUCIA CON UN SOFFIO RIESCE A FARE 6 BOLLE, DAVIDE PRENDE
UN BEL RESPIRO E FA 9 BOLLE.
QUANTE BOLLE VOLERANNO ORA NEL CIELO?

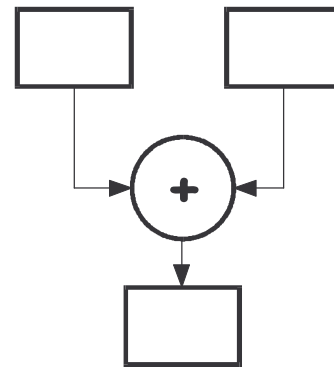
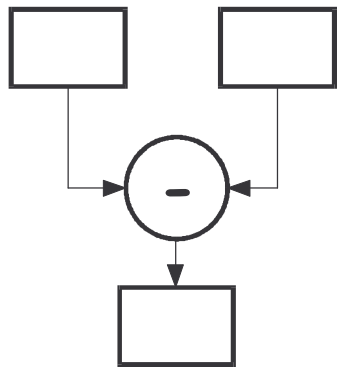


SCEGLI IL DISEGNO ADATTO PER RISOLVERE IL PROBLEMA:





COMPLETA IL DIAGRAMMA GIUSTO:



PENSI DI AVER SVOLTO BENE IL COMPITO?
SEGNA CON UNA CROCETTA LA RISPOSTA.



SÌ



NON SO



NO

LA FESTA DELLA MAMMA.

NELLA VETRINA DEL FIORAIO IL 9 MAGGIO SONO ESPOSTE 14
PIANTE.
DURANTE LA GIORNATA NE VENGONO VENDUTE 8.



SCRIVI TU LA DOMANDA:

.....

.....



INDIVIDUA LE INFORMAZIONI IMPORTANTI E
SPIEGALE.


.....

.....

.....



RAPPRESENTA LA SITUAZIONE CON IL DISEGNO:



QUALE TRA QUESTI PROBLEMI RISOLVERESTI ALLO STESSO MODO:

- IL BAGNINO HA APERTO 14 OMBRELLONI VERDI E 8 A RIGHE. QUANTI OMBRELLONI AVRÀ IL BAGNINO?
- IL BAGNINO HA APERTO 14 OMBRELLONI. AD UN TRATTO UN FORTE VENTO NE ROMPE 8. QUANTI OMBRELLONI RESTANO AL BAGNINO?
- IL BAGNINO HA COMPRATO DEGLI OMBRELLONI NUOVI. QUANTI OMBRELLONI HA ORA IL BAGNINO?



CONTROLLA SE I TUOI COMPAGNI HANNO LAVORATO COME TE. AVEVI INDOVINATO?



SÌ



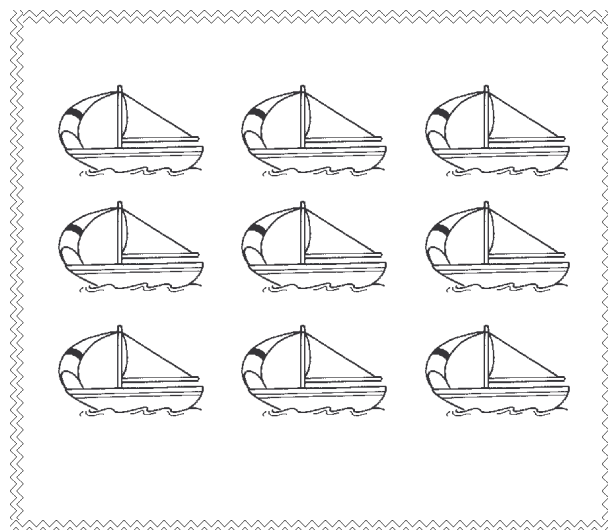

NO

I GIOCHI DI PAOLO.

LA MAMMA CHIEDE A PAOLO DI METTERE IN ORDINE I GIOCHI.
PAOLO LI SISTEMA COSÌ.



OSSERVA I DISEGNI:



RISPONDI:

✧ QUANTE SONO LE MACCHININE?

✧ QUANTE SONO LE BARCHETTE?

✧ QUANTI SONO I GIOCATTOLI?



SCRIVI L'OPERAZIONE E RISOLVI COSÌ IL PROBLEMA:

OPERAZIONE:

.....



QUALE TRA QUESTI PROBLEMI RISOLVERESTI ALLO STESSO MODO:

- PAOLO HA LA STANZA DEI GIOCHI TUTTA IN DISORDINE. LA MAMMA SI ARRABBIERÀ?
- PER IL COMPLEANNO IL NONNO REGALA A PAOLO 3 MAGLIETTE DEL CALCIO E LO ZIO 4 PANTALONCINI.. QUANTI INDUMENTI POSSIEDE ORA PAOLO?
- PAOLO METTE IN ORDINE LA STANZA DEI GIOCHI. TROVA 16 GIOCATTOI, MA 7 SONO ROTTI E LI BUTTA VIA. QUANTI GIOCATTOI HA ORA PAOLO?



HO LAVORATO:

- CON QUALCHE INCERTEZZA.
- ABBASTANZA BENE.
- MOLTO BENE.

LE FRAGOLE.

LA MAMMA HA MANGIATO 14 FRAGOLE ED IL PAPÀ 19.
CALCOLA LA DIFFERENZA TRA LE FRAGOLE MANGIATE DAL PAPÀ E
QUELLE MANGIATE DALLA MAMMA.



LEGGI ATTENTAMENTE IL TESTO DEL PROBLEMA E POI
METTI LE PAROLE

MENO E PIÙ

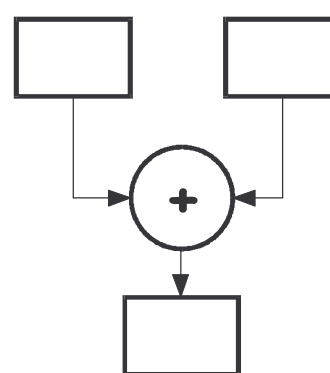
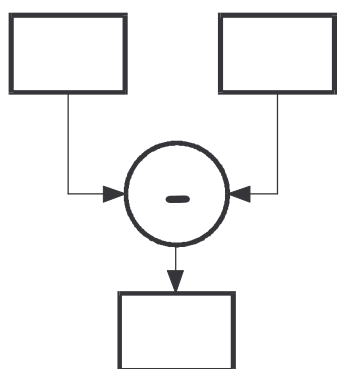
AL POSTO DEI PUNTINI, IN MODO ESATTO.

✂ LA MAMMA HA MANGIATO FRAGOLE DEL PAPÀ.

✂ IL PAPÀ HA MANGIATO FRAGOLE DELLA MAMMA.



RISOLVI IL PROBLEMA RIEMPIENDO IL DIAGRAMMA CHE
RITIENI ESATTO:



PENSI DI AVER SVOLTO BENE IL COMPITO?
SEGNA CON UNA CROCETTA LA RISPOSTA.



SÌ



NON SO



NO



IN GIARDINO.

È UNA BELLA GIORNATA, IN GIARDINO CI SONO 8 BAMBINI CHE GIOCANO A PALLA, 2 CHE SALTANO LA CORDA E 7 CHE FANNO UN GIROTONDO.

QUANTI BAMBINI CI SONO IN GIARDINO?

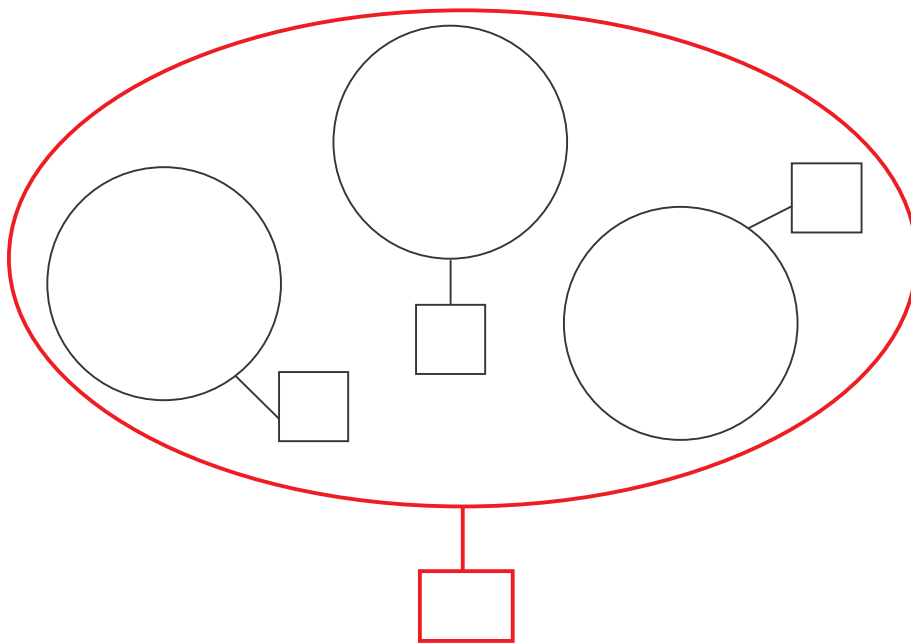
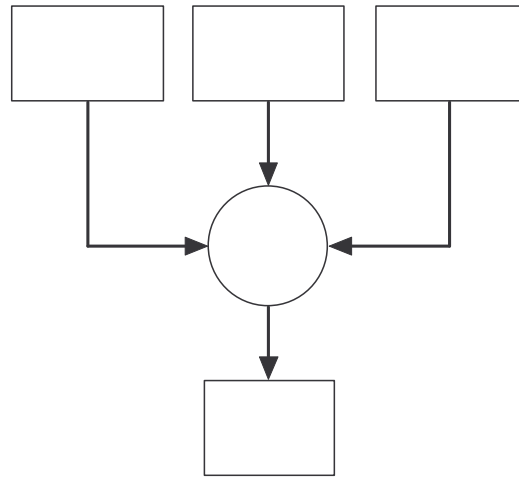


SCEGLI IL DISEGNO ADATTO PER RISOLVERE IL PROBLEMA:





RISOLVI IL PROBLEMA CON IL DIAGRAMMA E POI CON LO SCHEMA:



COME TI È SEMBRATO QUESTO PROBLEMA?

- È STATO SEMPLICE.
- HO AVUTO UN PO' DI DIFFICOLTÀ.
- HO DOVUTO PENSARCI MOLTO.

AL LUNA PARK.

LUCA E MATTEO VANNO AL LUNA PARK E GIOCANO A COLPIRE I PALLONCINI AL TIRO A SEGNO.
LUCA NE COLPISCE 12 E MATTEO 8.
QUANTI SONO I PALLONCINI DI DIFFERENZA?



DISEGNA I PALLONCINI COLPITI DA MATTEO E DA LUCA:



MATTEO



LUCA



SCRIVI L'OPERAZIONE:

$$\dots\dots\dots \square \dots\dots\dots = \dots\dots\dots$$



LEGGI LE SEGUENTI DEFINIZIONI E COLORA LA CASELLA V (VERO) O F (FALSO).

LUCA E MATTEO VANNO AL LUNA PARK

V	F
---	---

MATTEO COLPISCE DUE PALLONCINI

V	F
---	---

LUCA COLPISCE MOLTI PALLONCINI

V	F
---	---

MATTEO COLPISCE MENO PALLONCINI DI LUCA

V	F
---	---



INDICA CON UNA CROCETTA COSA PENSI DEL TUO LAVORO.

- SONO SICURO DI AVER FATTO TUTTO GIUSTO.
- FORSE HO FATTO GIUSTO.
- FORSE HO SBAGLIATO.
- SONO SICURO DI AVER SBAGLIATO.

IL TEMPORALE.




NELLO STAGNO AL RIPARO TRA I SASSI CI SONO 8 RANE
SALTERINE.

ARRIVANO DURANTE UN TEMPORALE ALTRE 6 RANOCCHIE A
CERCARE RIFUGIO.

QUANTE SONO ORA LE RANE AL RIPARO TRA I SASSI?

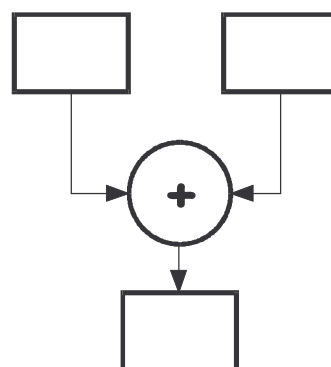
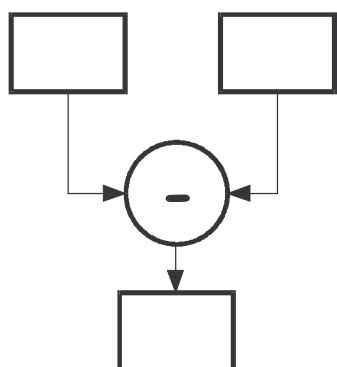


SCEGLI IL DISEGNO ADATTO PER RISOLVERE IL
PROBLEMA:





RISOLVI IL PROBLEMA RIEMPIENDO IL DIAGRAMMA CHE RITIENI ESATTO:



PENSI DI AVER SVOLTO BENE IL COMPITO?
SEGNA CON UNA CROCETTA LA RISPOSTA.



SÌ



NO