


UNITÀ DI INSEGNAMENTO - APPRENDIMENTO.

6 OBIETTIVO: Conoscere i numeri decimali: i decimi.

Ogni frazione decimale si può scrivere anche sotto forma di **numero decimale**; per separare la parte intera dalla parte decimale si usa la **virgola**.

PARTE INTERA			PARTE DECIMALE
h	da	u	d = decimi
		0	, 9



$$\frac{9}{10}$$

0,9


Il quadrato "UNITÀ" è stato diviso in dieci parti uguali. Ogni parte è $\frac{1}{10}$ dell'UNITÀ. Abbiamo colorato $\frac{9}{10}$.

Possiamo scrivere anche 0,9

unità


decimi

Colora la frazione decimale indicata e scrivi il numero decimale corrispondente:



$$\frac{5}{10}$$

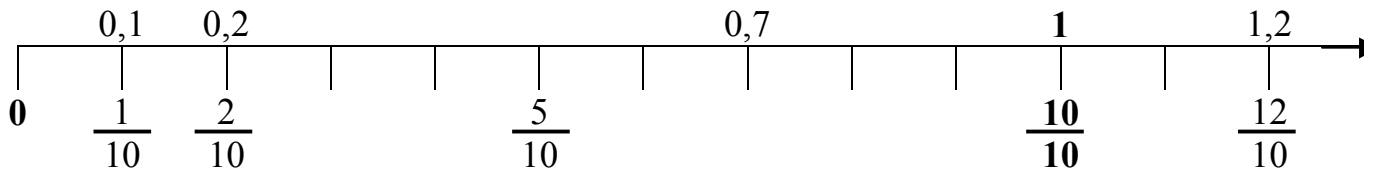
.....



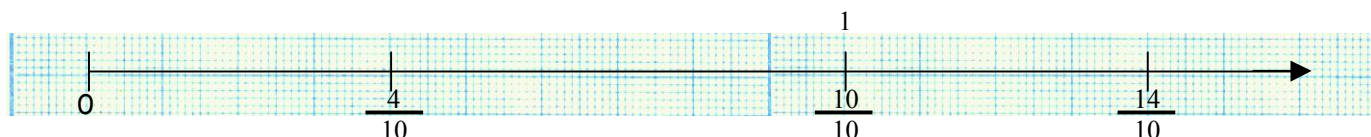
$$\frac{3}{10}$$

.....

Ora proviamo a contare i decimi sulla linea dei numeri:

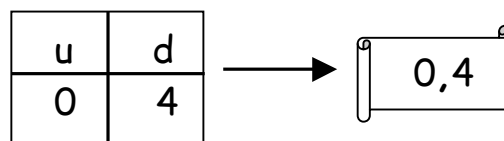


Ora proviamo a rappresentare i decimi sulla carta millimetrata:

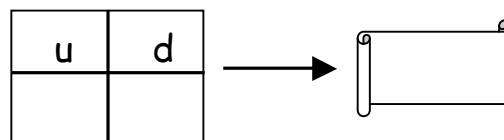


Se $\frac{10}{10}$ rappresenta l'intero:

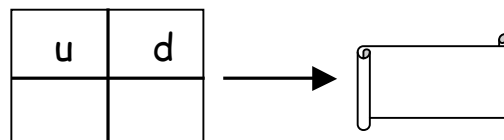
- $\frac{4}{10}$ è minore dell'intero e corrisponde a



- $\frac{10}{10}$ è l'intero e corrisponde a



- $\frac{14}{10}$ è maggiore dell'intero e corrisponde a



ORA ESERCITATI CON LE UNITÀ CHE SEGUONO.

