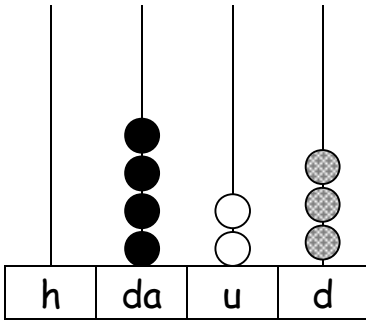


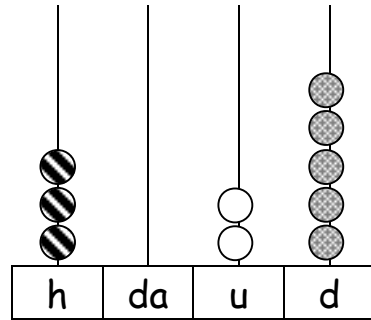
QUINTA UNITÀ DI ESERCITAZIONE.



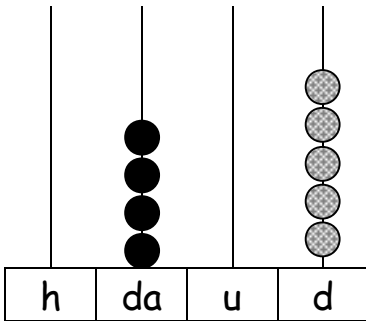
Scrivi i numeri rappresentati dall'abaco come nell'esempio:



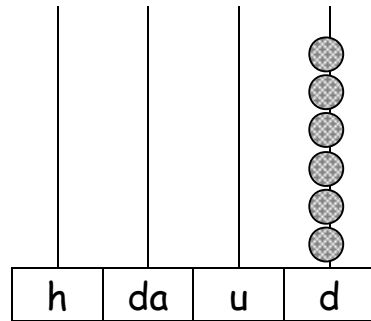
42,3



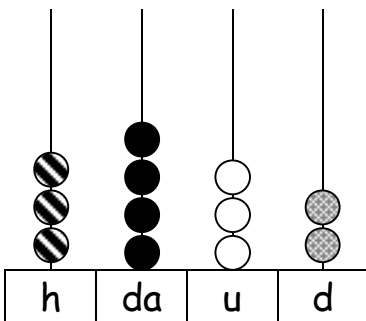
.....



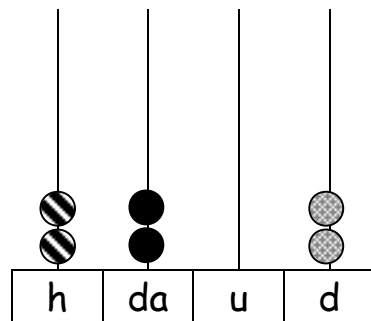
.....



.....



.....



.....



Colora ogni numero scritto in cifre come il suo corrispondente numero scritto in lettere:

tre decimi	0,2
sette decimi	0,5
due decimi	0,3
cinque decimi	0,9
sei decimi	0,1
nove decimi	0,6
un decimo	0,7



Scrivi il numero mancante:

$0,3 + \dots = 1$

$1,4 + \dots = 2$

$1,9 + \dots = 2$

$3,6 + \dots = 4$

$4,5 + \dots = 5$

$2,7 + \dots = 3$

$6,7 + \dots = 7$

$8,2 + \dots = 9$

$9,8 + \dots = 10$

$7,4 + \dots = 8$



Indica con una crocetta cosa pensi del tuo lavoro:

- Sono sicuro di aver fatto giusto.
- Forse ho fatto giusto.
- Forse ho sbagliato.
- Sono sicuro di aver sbagliato.