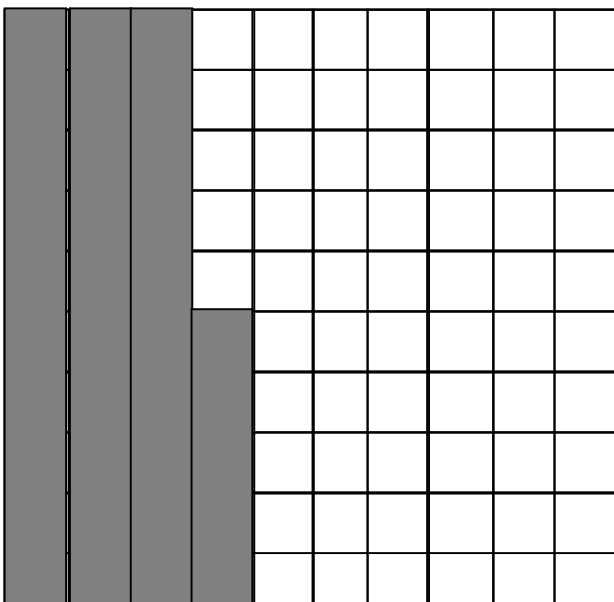


UNITÀ DI INSEGNAMENTO - APPRENDIMENTO.

7 OBIETTIVO: Conoscere i numeri decimali: i centesimi.

Ogni frazione decimale si può scrivere anche sotto forma di **numero decimale**; per separare la parte intera dalla parte decimale si usa la **virgola**.

PARTE INTERA			PARTE DECIMALE	
h	da	u	d = decimi	c = centesimi
		0	3	5



$$\frac{35}{100}$$

0,35


Il quadrato "UNITÀ" è stato diviso in cento parti uguali. Ogni parte è $\frac{1}{100}$ dell'UNITÀ. Abbiamo colorato $\frac{35}{100}$

Possiamo scrivere anche 0,35

↓ ↓ ↓


unità decimi centesimi

Colora la frazione decimale indicata e scrivi il numero decimale corrispondente:



$$\frac{5}{100}$$

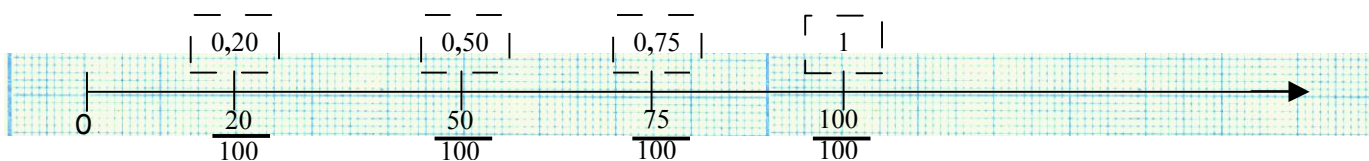
.....



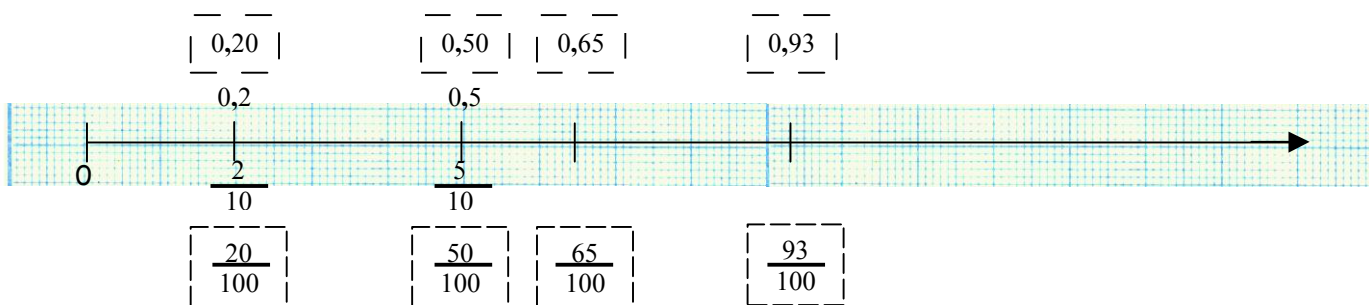
$$\frac{58}{100}$$

.....

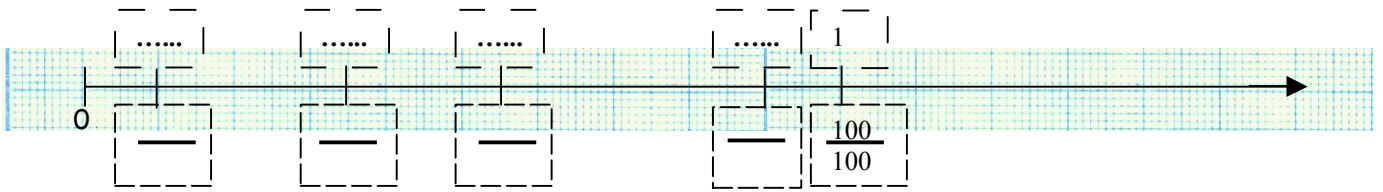
Proviamo a rappresentare i centesimi sulla carta millimetrata:



Ora proviamo a rappresentare i decimi e i centesimi sulla carta millimetrata:



Completiamo insieme:



Completiamo come l'esempio:

4 centesimi	→	$\frac{4}{100}$	→	<table border="1" style="border-collapse: collapse; text-align: center;"> <tr> <td>u</td> <td>d</td> <td>c</td> </tr> <tr> <td>0</td> <td>0</td> <td>4</td> </tr> </table>	u	d	c	0	0	4	→	<input style="width: 60px; height: 30px;" type="text" value="0,04"/>
u	d	c										
0	0	4										
30 centesimi	→	—	→	<table border="1" style="border-collapse: collapse; text-align: center;"> <tr> <td>.....</td> <td>.....</td> <td>.....</td> </tr> </table>	→	<input style="width: 60px; height: 30px;" type="text"/>			
.....										
53 centesimi	→	—	→	<table border="1" style="border-collapse: collapse; text-align: center;"> <tr> <td>.....</td> <td>.....</td> <td>.....</td> </tr> </table>	→	<input style="width: 60px; height: 30px;" type="text"/>			
.....										
82 centesimi	→	—	→	<table border="1" style="border-collapse: collapse; text-align: center;"> <tr> <td>.....</td> <td>.....</td> <td>.....</td> </tr> </table>	→	<input style="width: 60px; height: 30px;" type="text"/>			
.....										

ORA ESERCITATI CON LE UNITÀ CHE SEGUONO.

