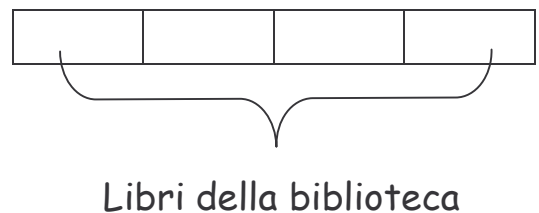
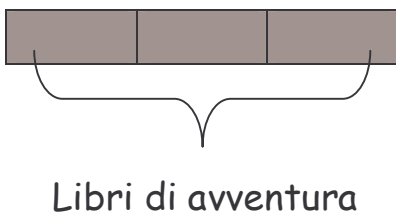
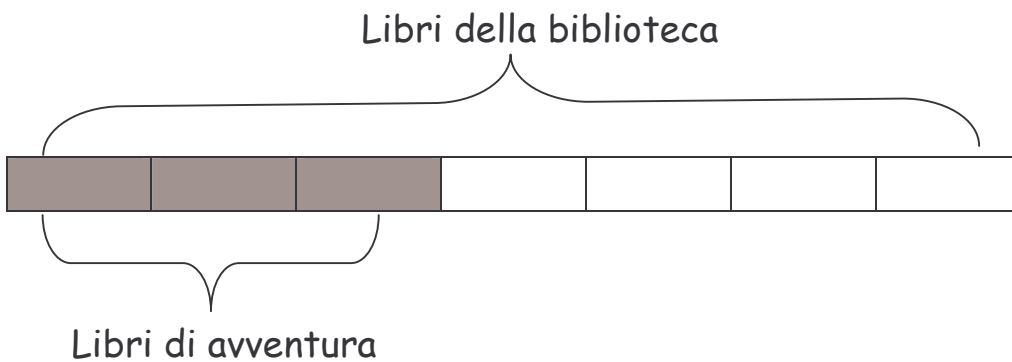
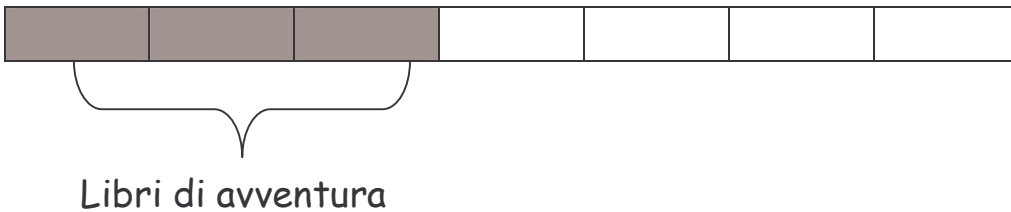


LA BIBLIOTECA

Nella biblioteca scolastica ci sono 360 libri di avventura, cioè i $\frac{3}{7}$ dell'intera biblioteca.
Quanti libri possiede la scuola?



Scegli tra questi schemi quello che rappresenta il problema:





Esegui le operazioni nello spazio sottostante.



Quale dei seguenti problemi risolveresti allo stesso modo?

- I libri di avventura sono il doppio di quelli di favole. Quanti sono i libri di favole?
- I libri di storia medievale sono 26, che sono i $\frac{2}{3}$ dei libri di storia della biblioteca. Quanti libri di storia possiede la biblioteca.
- I libri scientifici della biblioteca sono 185. I $\frac{3}{5}$ trattano di animali. Quanti sono i libri di animali?



Come ti è sembrato risolvere questo problema?

- È stato facile.
- È stato abbastanza difficile.
- È stato difficile.