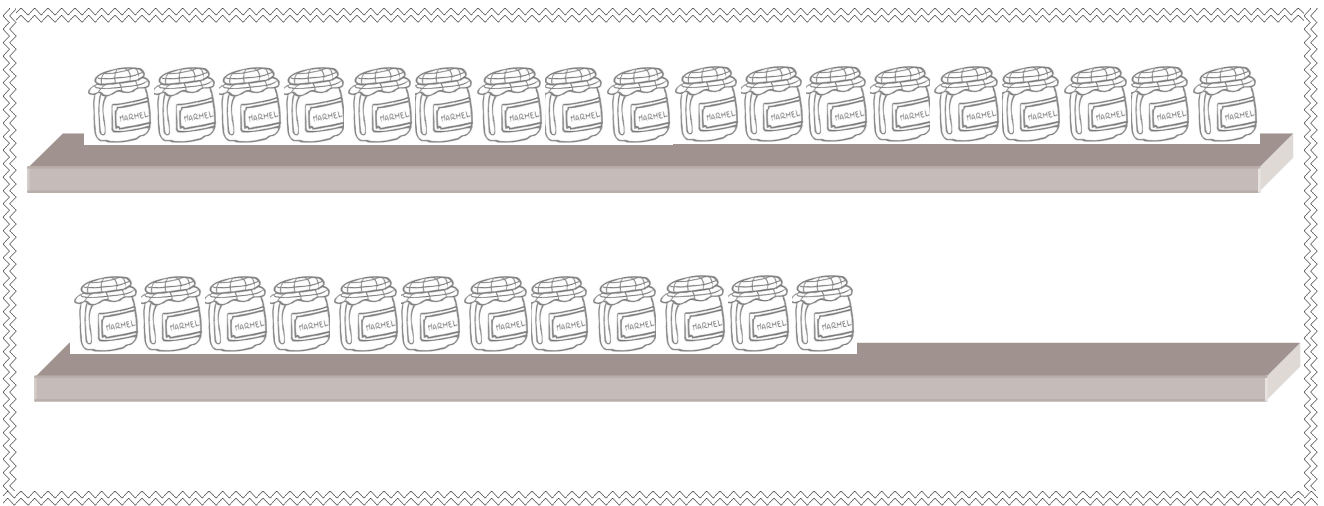
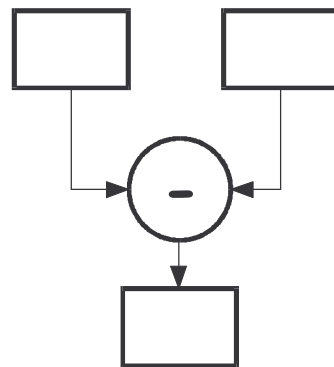
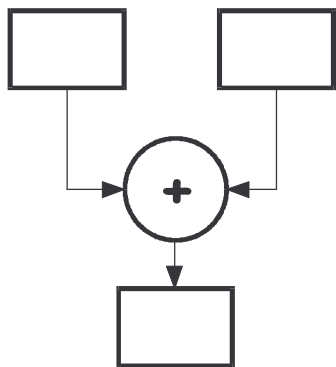


## LE MARMELLATE.

STAMATTINA IL SIGNOR SILVIO DOLCETTI HA PREPARATO 2 SCAFFALI CON LE SUE MARMELLATE SPECIALI.  
IN OGNI SCAFFALE HA MESSO 18 BEI BARATTOLONI.  
A MEZZOGIORNO NEL PRIMO SCAFFALE ERANO RIMASTI SOLO 12 BARATTOLONI.  
QUAL È LA DIFFERENZA TRA I BARATTOLONI DEI DUE SCAFFALI?



RISOLVI IL PROBLEMA RIEMPIENDO IL DIAGRAMMA CHE RITIENI ESATTO:





LEGGI ATTENTAMENTE IL TESTO, OSSERVA IL DISEGNO  
E COLORA LA RISPOSTA CHE TI SEMBRA ESATTA.

✦ PERCHÉ I DUE SCAFFALI RITORNINO UGUALI, QUANTI  
BARATTOLI SARÀ NECESSARIO AGGIUNGERE?

12 BARATTOLONI

6 BARATTOLONI

18 BARATTOLONI

COME TI È SEMBRATO QUESTO PROBLEMA?



- È STATO SEMPLICE.
- HO AVUTO UN PO' DI DIFFICOLTÀ.
- HO DOVUTO PENSARCI MOLTO.