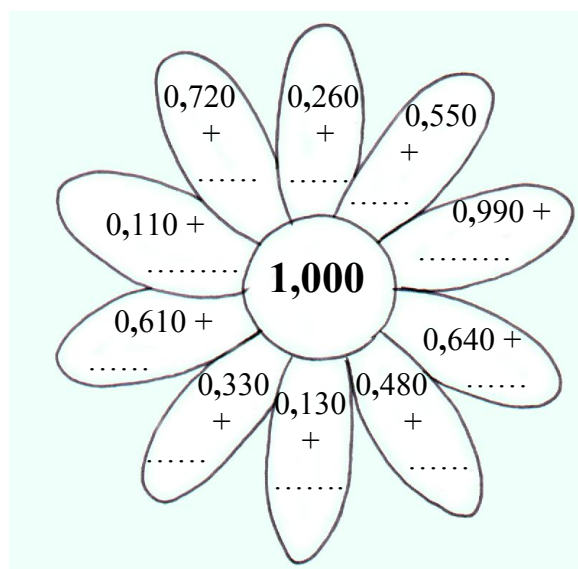
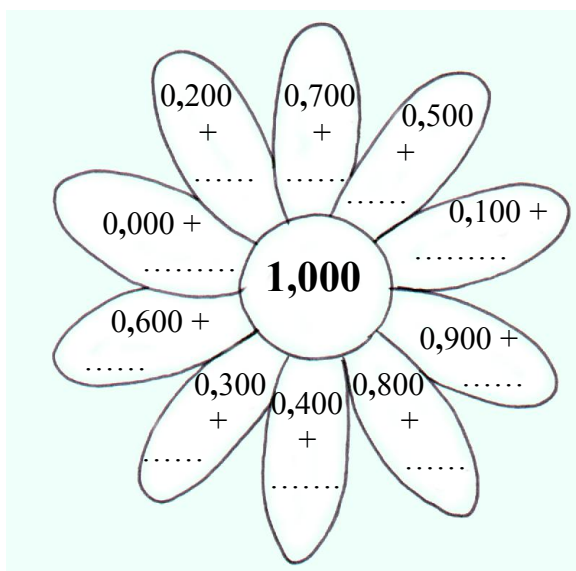
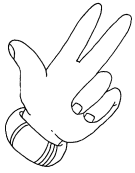


## SESTA UNITÀ DI ESERCITAZIONE.



Formiamo una unità:





Cerchia la cifra dei millesimi:

7,543

0,579

5,432

0,457

6,035

0,614

0,003

1,234

4,910



Completa le tabelle:

	u	d	c	m
	0	5	4	2
+ 0,1				
+ 0,01				
+ 0,001				

	u	d	c	m
	0	5	2	3
- 0,1				
- 0,01				
- 0,001				

	u	d	c	m
	0	6	3	0
+ 0,2				
+ 0,03				
+ 0,005				

	u	d	c	m
	0	8	7	5
- 0,3				
- 0,06				
- 0,004				



Controlla se i tuoi compagni hanno lavorato come te e parlane con loro.